


Zadaci za zadaću - za i puta

1. Upiši tražene brojeve:

a)

9	→	
6	→	
10	→	
8	→	
12	→	


**UMANJI
ZA 3**



b)

9	→	
6	→	
27	→	
18	→	
24	→	


**UMANJI
3 PUTA**



c)

9	→	
6	→	
10	→	
8	→	
12	→	


**UVEĆAJ
ZA 3**



d)

9	→	
6	→	
10	→	
8	→	
12	→	


**UVEĆAJ
3 PUTA**



2. Upiši brojeve koji nedostaju:

a)

27	45	63	18	72	54
UMANJI 9 PUTA					



b)

27	45	63	18	72	54
UMANJI ZA 9					



3. Zlatko ima 70 kuna. Ivica ima 2 puta manje kuna od Zlatka. Slavko ima za 28 kuna manje od Ivice. Josip ima 9 puta više kuna od Slavka. Igor ima za 20 kuna više od Josipa. Koliko tko ima kuna?

4. a) Koliko puta je broj 24 veći od broja 6 ?
 b) Koliko puta je broj 6 manji od broja 24?
 c) Za koliko je broj 24 veći od broja 6 ?
 d) Za koliko je broj 6 manji od broja 24 ?



5. a) Koji je od brojeva 36 i 9 veći? Koliko puta?
 b) Koji je od brojeva 100 i 400 manji? Koliko puta?
 c) Koji je od brojeva 800 i 200 manji? Za koliko?



6. Ivo ima 60, a Vlado 20 sličica. Tko ima manje sličica? Koliko puta?



7. Maja ima 30 lutkica, a Goga 18. Koja ima više lutkica? Za koliko ima više?