

Brojanje novca - do 100 kuna

Ako imate učenika koji ne zna brojati novce, možda ovi materijali mogu pomoći u uvježbavanju. Materijali sigurno neće biti dovoljni sami za sebe; bit će potrebno da i usmeno učeniku pojasnite neke stvari, no nakon što shvati detalje, može ih nastaviti vježbati pismeno (bez vas) pomoću ovog materijala.

Za uvježbavanje preporučam od papira u boji napraviti *kovanice* i *novčanice*, te ih koristiti kod brojanja kuna... (možda Vam i te novčanice može izrezati netko od učenika koji će ih kasnije koristiti).

Ove su novčanice posebno važne za rješavanje 3. zadatka u kojem učenik treba nacrtati sliku koja prikazuje npr. 73 kn. Tada prvo pomoću priloženih novčanica treba na stol *složiti 7 kn*, a zatim nacrtati to što je složio...

Ugodnu zabavu! :-)









Antonija Horvatek






Matematika na dlanu

<http://www.antonija-horvatek.from.hr/>

Brojanje novca - do 100 kn





1. Precrtaj sliku u bilježnicu i pokraj napiši koliko kuna ima na slici:





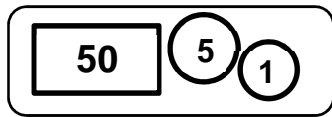
Brojanje novca - do 100 kn

2. Precrtaj sliku u bilježnicu, pa pokraj napiši koliko kuna ima na slici:

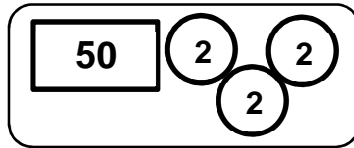


3. Nacrtaj sliku koja prikazuje koliko je kuna zadano. Ako možeš, u svakom zadatku nacrtaj barem 2 ili 3 rješenja (vidi kako je riješen a zadatak):

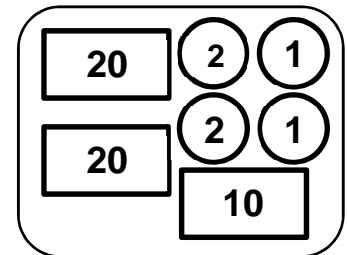
a) 56 kn



ili



ili



- | | | | | |
|-----------|-----------|-----------|-----------|-----------|
| b) 73 kn, | f) 64 kn, | j) 78 kn, | n) 70 kn, | s) 55 kn, |
| c) 39 kn, | g) 56 kn, | k) 92 kn, | o) 88 kn, | t) 27 kn, |
| d) 95 kn, | h) 49 kn, | l) 59 kn, | p) 35 kn, | u) 81 kn, |
| e) 80 kn, | i) 84 kn, | m) 27 kn, | r) 93 kn, | v) 29 kn. |

3. Nacrtaj na koje načine možeš uzeti 100 kuna koristeći novčanice od:

- | | | | |
|-----------|-------------------|--------------------------|-------------------------------|
| a) 50 kn, | c) 10 kn, | e) 20 kn i 10 kn, | g) 50 kn, 20 kn i 5 kn, |
| b) 20 kn, | d) 50 kn i 10 kn, | f) 50 kn, 20 kn i 10 kn, | h) 20 kn, 10 kn, 5 kn i 2 kn. |

4. Nacrtaj na koje načine možeš uzeti 50 kuna koristeći novčanice od:

- | | | | |
|-------------------|------------------|-------------------------|------------------------------|
| a) 10 kn, | c) 20 kn i 5 kn, | e) 20 kn, 10 kn i 5 kn, | g) 20 kn, 5 kn i 2 kn, |
| b) 20 kn i 10 kn, | d) 10 kn i 5 kn, | f) 10 kn, 5 kn i 2 kn, | h) 10 kn, 5 kn, 2 kn i 1 kn. |

5. Prečrtaj ove slike u bilježnicu i dočrtaj rješenje!


Na računu ti piše koliko na kasi u trgovini trebaš platiti. Vidi sliku koja pokazuje koliko si novaca dao. Nacrtaj sliku koja pokazuje koliko ti blagajnica treba vratiti:

a)

Na računu piše:



Ja sam dao:




Trebam dobiti:

b)

Na računu piše:



Ja sam dao:



Trebam dobiti:

c) Na računu piše:
6 kn

Ja sam dao:

50

Trebam dobiti:

d) Na računu piše:
61 kn

Ja sam dao:

50 20

Trebam dobiti:

e) Na računu piše:
77 kn

Ja sam dao:

50 50

Trebam dobiti:

f) Na računu piše:
34 kn

Ja sam dao:

100

Trebam dobiti:

g) Na računu piše:
56 kn

Ja sam dao:

50 5 5

Trebam dobiti:

h) Na računu piše:
43 kn

Ja sam dao:

20 20 20

Trebam dobiti:

i) Na računu piše:
9 kn

Ja sam dao:

100

Trebam dobiti:

j) Na računu piše:
44 kn

Ja sam dao:

50 2 2

Trebam dobiti:


k) Na računu piše:
67 kn


Ja sam dao:


50 2 2 2 2 2 2 2 2 2


Trebam dobiti:

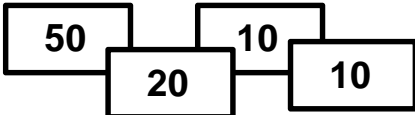
l) Na računu piše: 3 kn Ja sam dao:  Trebam dobiti:

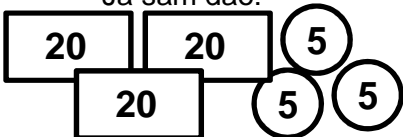
m) Na računu piše: 10 kn Ja sam dao:  Trebam dobiti:


n) Na računu piše: 67 kn Ja sam dao:  Trebam dobiti:

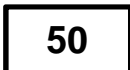
o) Na računu piše: 19 kn Ja sam dao:  Trebam dobiti:

p) Na računu piše: 52 kn Ja sam dao:  Trebam dobiti:

r) Na računu piše: 81 kn Ja sam dao:  Trebam dobiti:

s) Na računu piše: 72 kn Ja sam dao:  Trebam dobiti:

t) Na računu piše: 98 kn Ja sam dao:  Trebam dobiti:

u) Na računu piše: 14 kn Ja sam dao:  Trebam dobiti: