

MATEMATIČKI KLOKAN S

6 100 000 sudionika u 57 zemalja Europe, Amerike, Afrike i Azije

Četvrtak, 17. ožujka 2016. – Trajanje 75 minuta

Natjecanje za Student (IV. razred SS)

- * Natjecanje je pojedinačno. Računala su zabranjena.
- * Svaki zadatak ima pet ponuđenih odgovora od kojih je samo jedan točan.
- * Prvih osam pitanja donosi po 3 boda, drugih osam po 4 boda, a trećih osam po 5 bodova.
- * Ako nijedan odgovor nije zaokružen ili su zaokružena dva ili više odgovora zadatak donosi 0 bodova.
- * Ako je zaokružen odgovor pogrešan, oduzima se četvrtina bodova predviđenih za taj zadatak.
- * Svaki sudionik u natjecanju dobiva simboličan dar, a deset posto najboljih nagradu.

Pitanja za 3 boda:

1. Zbroj godina Tome i Ivana je 23, zbroj godina Ivana i Aleksandra je 24 a zbroj godina Tome i Aleksandra je 25. Koliko godina ima najstariji od njih?

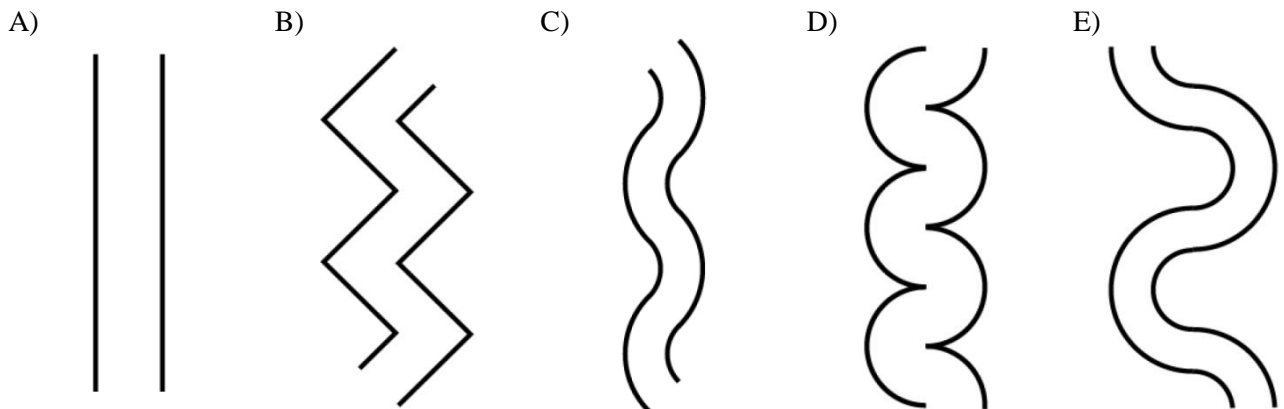
A) 10 B) 11 C) 12 D) 13 E) 14

Rješenje: D

Označimo Tomine godine s t , Ivanove s i , a Aleksandrove s a . Tada imamo:

$t + i = 23$, $i + a = 24$, $t + a = 25$. Zbrojimo li ove tri jednačbe dobijemo: $2t + 2i + 2a = 7$. Dijeljenjem sa 2 imamo: $t + i + a = 36$. Kako nam trebaju godine najstarijeg među njima od posljednje sume oduzet ćemo najmanju od gornjih suma $(t + i + a) - (t + i) = 36 - 23 = 13$.

2. Marija želi sagraditi most preko rijeke i zna da je najkraći mogući most za bilo koju točku s jedne strane rijeke uvijek iste duljine. Koja od danih slika ne može biti slika njene rijeke?



Rješenje: B

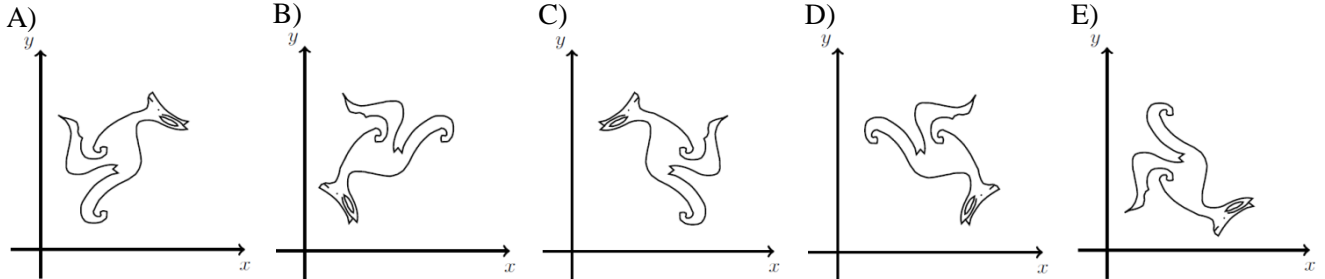
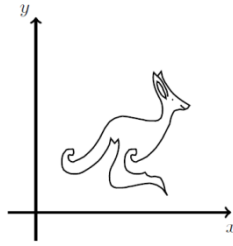
3. Koliko je cijelih brojeva veće od $2015 \cdot 2017$ i manje od $2016 \cdot 2016$?

A) 0 B) 1 C) 2015 D) 2016 E) 2017

Rješenje: A

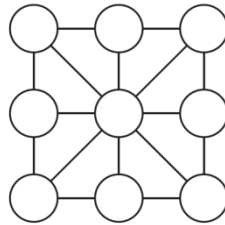
$2015 \cdot 2017 = (2016 - 1)(2016 + 1) = 2016 \cdot 2016 - 1$. Dakle, ova dva broja su dva uzastopna cijela broja pa između njih nema cijelih brojeva.

4. Skup točaka u xy -ravnini tvori sliku klockana, kao na slici. Ako zamijenimo x i y koordinatu za svaku točku koja će od danih slika prikazivati rezultat?



Rješenje: A

5. Dijana želi upisati devet prirodnih brojeva u krugove na dijagramu tako da sume brojeva u vrhovima svakog od osam malih trokuta koje tvore bridovi budu identične. Koji je najveći broj različitih prirodnih brojeva koje ona može koristiti?

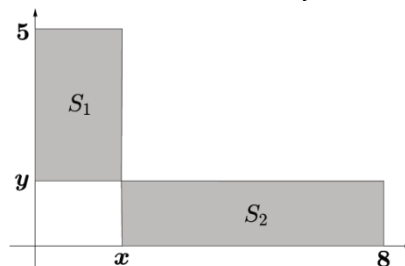


- A) 1 B) 2 C) 3 D) 5 E) 8

Rješenje: C

Ako u središnji krug upišemo broj x i u bilo koji od vanjskih krugova broj y onda u dva njemu susjedna kruga mora pisati isti broj z . Sada imamo trokute u čijim su vrhovima brojevi x i z pa, da bi suma bila u svakom trokutu jednaka, u trećem vrhu mora biti broj y . Popunjavajući dalje dijagram vidimo da u ostale krugove moramo upisati ili broj z ili broj y .

6. Pravokutnici S_1 i S_2 na slici imaju iste površine. Odredi omjer $\frac{x}{y}$.



- A) 1 B) $\frac{3}{2}$ C) $\frac{4}{3}$ D) $\frac{7}{4}$ E) $\frac{8}{5}$

Rješenje: E

Duljine stranica pravokutnika S_1 su x i $5 - y$. Duljine stranica pravokutnika S_2 su y i $8 - x$. Izjednačimo njihove površine: $x(5 - y) = y(8 - x)$. Iz ove jednakosti slijedi $\frac{x}{y} = \frac{8}{5}$.

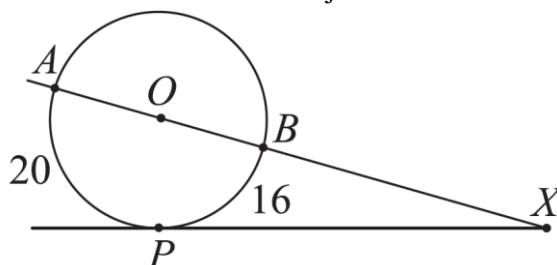
7. Ako je $x^2 - 4x + 2 = 0$, odredi $x + \frac{2}{x}$.

- A) -4 B) -2 C) 0 D) 2 E) 4

Rješenje: E

Iz $x^2 - 4x + 2 = 0$ imamo $x^2 + 2 = 4x$. Stoga je $x + \frac{2}{x} = \frac{x^2+2}{x} = \frac{4x}{x} = 4$.

8. Duljine lukova AP i PB na slici su 20 i 16. Koliko iznosi mjera kuta $\angle PXA$?



- A) 30° B) 24° C) 18° D) 15° E) 10°

Rješenje: E

Označimo s α kut $\angle BOP$. Tada je kut $\angle AOP$ jednak $180^\circ - \alpha$. Sada iz formule za duljinu luka kružnice $l = \frac{r\pi\alpha}{180^\circ}$ imamo dvije jednačbe: $16 = \frac{r\pi\alpha}{180^\circ}$, $20 = \frac{r\pi(180^\circ - \alpha)}{180^\circ}$. Iz tog sustava dobivamo $\alpha = 80^\circ$. Kako je trokut PXO pravokutan traženi kut je $90^\circ - 80^\circ = 10^\circ$.

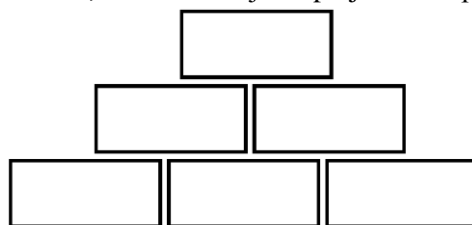
Pitanja za 4 boda:

9. Za prirodne brojeve a, b, c, d vrijedi $a + 2 = b - 2 = c \cdot 2 = d : 2$. Koji je od ovih brojeva najveći?

- A) a B) b C) c D) d E) Nije moguće odrediti.

Rješenje: D

10. U ovoj piramidi brojeva svako gornje polje produkt je dvaju polja direktno ispod njega. Koji se od danih brojeva ne može pojaviti na vrhu piramide, ako se u donja tri polja nalaze prirodni brojevi veći od 1?



- A) 56 B) 84 C) 90 D) 105 E) 220

Rješenje: D

Broj na vrhu piramide mora se moći prikazati kao produkt $x \cdot y \cdot y \cdot z$ gdje su x, y, z prirodni brojevi veći od 1 (x, y, z su brojevi upisani u donja tri polja). Od danih brojeva samo se 105 ne može tako zapisati ($105 = 3 \cdot 5 \cdot 7$).

11. Ako je $x_1 = 2$ i $x_{n+1} = x_n^{x_n}$ za $n \geq 1$ koliko iznosi x_4 ?

- A) 2^{2^3} B) 2^{2^4} C) $2^{2^{11}}$ D) $2^{2^{16}}$ E) $2^{2^{768}}$

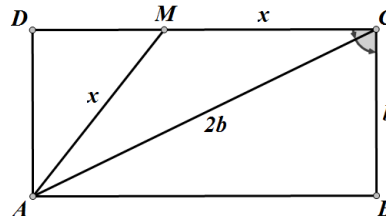
Rješenje: C

$$x_2 = 2^2 = 4, x_3 = 4^4 = (2^2)^4 = 2^8, x_4 = (2^8)^{2^8} = 2^{8 \cdot 2^8} = 2^{2^3 \cdot 2^8} = 2^{2^{11}}$$

12. U pravokutniku $ABCD$ duljina stranice \overline{BC} jednaka je polovici duljine dijagonale \overline{AC} . Neka je M točka na stranici \overline{CD} takva da je $|AM| = |MC|$. Kolika je mjera kuta $\angle CAM$?

- A) 12.5° B) 15° C) 27.5° D) 42.5° E) Ništa od navedenog.

Rješenje: E



Iz trokuta ABC vidimo da je $\cos \angle BCA = \frac{b}{2b} = \frac{1}{2}$ pa je $\angle BCA = 60^\circ$. Onda je $\angle MCA = 90^\circ - 60^\circ = 30^\circ$. Trokut ACM je jednakokračan pa je $\angle CAM = \angle MCA = 30^\circ$.

13. Koliko postoji različitih pravokutnika površine 2016 koje je moguće razrezati na 56 jednakih kvadrata?

- A) 2 B) 4 C) 6 D) 8 E) 0

Rješenje: B

Svaki kvadrat ima površinu $\frac{2016}{56} = 36$. Kako broj $56 = 2 \cdot 2 \cdot 2 \cdot 7 \cdot 1$ možemo dobiti kao četiri različita produkta ($1 \cdot 56, 2 \cdot 28, 4 \cdot 14, 7 \cdot 8$) postoje četiri različita pravokutnika koje je moguće ovako razrezati.

14. Na otoku Viteza i Lupeža žive samo dva tipa ljudi: Vitezovi (koji uvijek govore istinu) i Lupeži (koji uvijek lažu). Na svom putovanju po otoku sretnoš 7 ljudi koji sjede oko logorske vatre. Svaki od njih reče: "Sjedim između dva Lupeža!". Koliko Lupeža sjedi oko vatre?

- A) 3 B) 4 C) 5 D) 6 E) Nije moguće odrediti.

Rješenje: B

15. Jednadžbe $x^2 + ax + b = 0$ i $x^2 + bx + a = 0$ imaju realna rješenja. Znamo da je zbroj kvadrata rješenja prve jednadžbe jednak zbroju kvadrata rješenja druge jednadžbe i da je $a \neq b$. Koliko tada iznosi $a + b$?

- A) 0 B) -2 C) 4 D) -4 E) Nije moguće odrediti.

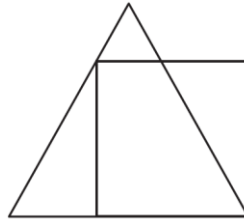
Rješenje: B

Vrijedi: $x_1^2 + x_2^2 = (x_1 + x_2)^2 - 2x_1x_2$. Iz Vieteovih formula zatim slijedi $(-a)^2 - 2b$ za prvu jednadžbu, a $(-b)^2 - 2a$. Izjednačimo li ove dvije jednakosti imamo redom:

$$(-a)^2 - 2b = (-b)^2 - 2a \Rightarrow a^2 - 2b = b^2 - 2a \Rightarrow a^2 - b^2 = -2a + 2b \Rightarrow$$

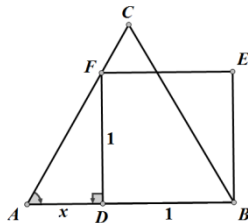
$$(a + b)(a - b) = -2(a - b) \Rightarrow a + b = -2.$$

16. Ako je opseg kvadrata na slici jednak 4, koliki je opseg jednakostraničnog trokuta na slici?



- A) 4 B) $3 + \sqrt{3}$ C) 3 D) $3 + \sqrt{2}$ E) $4 + \sqrt{3}$

Rješenje: B



Iz jednakostraničnog trokuta ADF imamo: $\text{tg } \angle FAD = \frac{1}{x} \Rightarrow \text{tg } 60^\circ = \frac{1}{x} \Rightarrow \sqrt{3} = \frac{1}{x} \Rightarrow x = \frac{1}{\sqrt{3}} = \frac{\sqrt{3}}{3}$. Stranica trokuta je zato duljine $\frac{\sqrt{3}}{3} + 1$ pa je opseg $\sqrt{3} + 3$.

Pitanja za 5 bodova:

17. Koliko različitih realnih rješenja ima jednačnja

$$(x^2 - 4x + 5)^{x^2+x-30} = 1?$$

- A) 1 B) 2 C) 3 D) 4 E) beskonačno

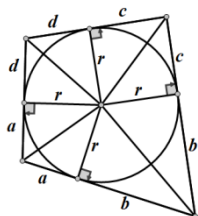
Rješenje: C

Moguća rješenja jednačnje $a^b = 1$ su: ($a = 1$) ili ($b = 0$ i $a \neq 0$) ili ($a = -1$ i b paran). Prvi slučaj ima jedno rješenje, drugi dva, a treći slučaj nema rješenja.

18. Četverokutu je upisana kružnica (svaka stranica četverokuta tangenta je te kružnice). Omjer opsega četverokuta i opsega kružnice iznosi $4 : 3$. Koliki je tada omjer površine četverokuta i površine kruga omeđenog tom kružnicom?

- A) $4 : \pi$ B) $3\sqrt{2} : \pi$ C) $16 : 9$ D) $\pi : 3$ E) $4 : 3$

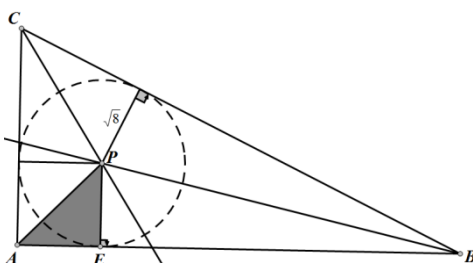
Rješenje: E



Omjer opsega ovih likova je $\frac{2(a+b+c+d)}{2r\pi} = \frac{a+b+c+d}{r\pi} = \frac{4}{3}$. Vidimo sa slike da je površina četverokuta $P = 2 \cdot \frac{ar}{2} + 2 \cdot \frac{br}{2} + 2 \cdot \frac{cr}{2} + 2 \cdot \frac{dr}{2} = (a + b + c + d)r$. Ona je omjer površina $\frac{(a+b+c+d)r}{r^2\pi} = \frac{a+b+c+d}{r\pi} = \frac{4}{3}$.

19. U pravokutnom se trokutu ABC (pravi kut je kod vrha A) simetrale šiljastih kutova sijeku u točki P . Ako je udaljenost točke P od hipotenuze $\sqrt{8}$, kolika je udaljenost točke P od vrha A ?

- A) 8 B) 3 C) $\sqrt{10}$ D) $\sqrt{12}$ E) 4



Rješenje: E

Sjecište simetrala kutova središte je upisane kružnice trokuta. Zato znamo da su duljine dužina $|AE|$ i $|EP|$ jednake radijusu upisane kružnice, tj. $\sqrt{8}$. Iz pravokutnog trokuta AEP tada slijedi da je $|AE| = \sqrt{8 + 8} = 4$.

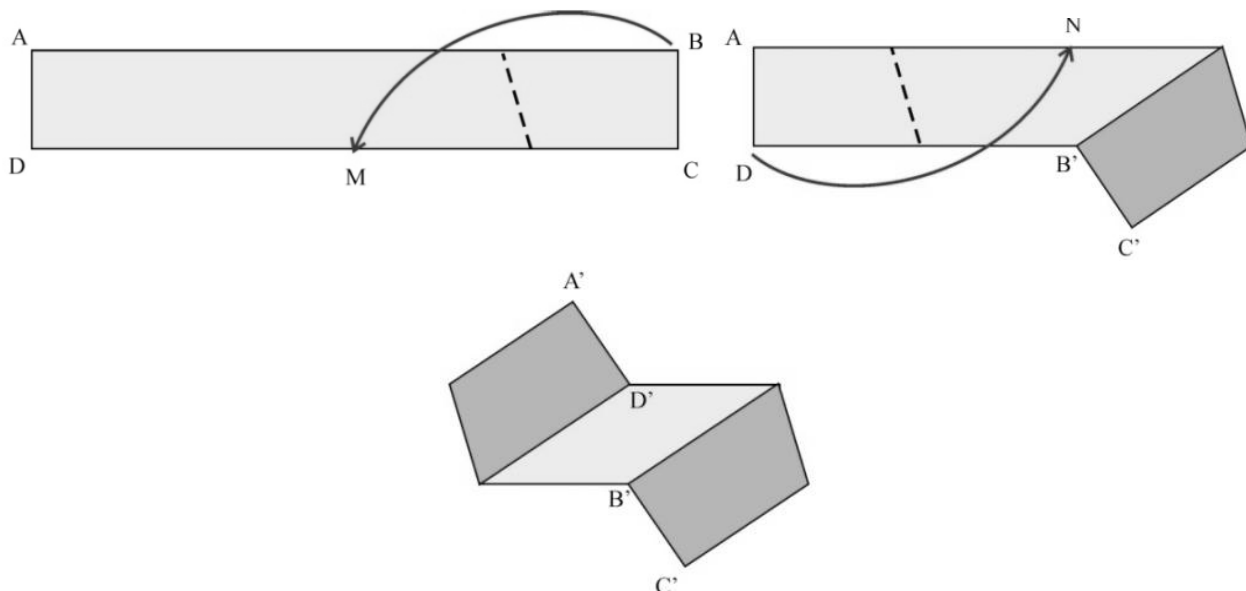
20. Kocka je razrezana na 6 piramida tako što smo danu točku unutar kocke povezali sa svakim vrhom kocke. Volumeni pet od tih piramida su 2, 5, 10, 11 i 14. Koliki je volumen šeste piramide?

A) 1 B) 4 C) 6 D) 9 E) 12

Rješenje: C

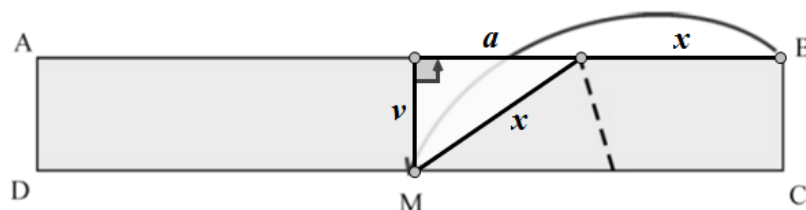
Neka je a duljina brida kocke. Volumen svake od piramida je $V = \frac{1}{3}a^2h$. Zbroj visina parova piramida kojima su baze nasuprotne strane kocke iznosi a . Dakle, zbroj volumena tih piramida bit će $\frac{1}{3}a^3$. Od danih brojeva jednake zbrojeve daju 2 i 14 te 5 i 11. To znači da šesta piramida treba imati volumen 6 kako bi zbroj s preostalim volumenom 10 također bio 16.

21. Pravokutna papirnata traka širine 5 cm i dužine 50 cm s jedne je strane svijetla, a s druge tamna. Kristina presavine traku tako da vrh B padne u polovište M stranice \overline{CD} . Zatim presavine traku tako da vrh D padne u polovište N stranice \overline{AB} . Kolika je površina (u cm^2) vidljivog svijetlog dijela na posljednjoj slici?



A) 50 B) 60 C) 62.5 D) 100 E) 125

Rješenje: B



Dio čija se površina traži je paralelogram sa stranicama duljina a i x , visine $v = 5$ cm. Površina je onda $P = a \cdot v$. Sa slike vidimo da x možemo izraziti na dva načina: $25 - a$ i $\sqrt{a^2 + v^2}$. Izjednačimo te izraze: $25 - a = \sqrt{a^2 + 25}$, kvadriramo jednakost: $625 - 50a + a^2 = a^2 + 25 \Rightarrow 50a = 600 \Rightarrow a = 12$ cm. Sada je $P = 12 \cdot 5 = 60 \text{ cm}^2$.

22. Ana je izabrala prirodan broj n i zapisala sumu svih prirodnih brojeva od 1 do n . Prost broj p djelitelj je te sume, ali nije djelitelj niti jednog sumanda. Koji bi od danih brojeva mogao biti $n + p$?

A) 217 B) 221 C) 229 D) 245 E) 269

Rješenje: A

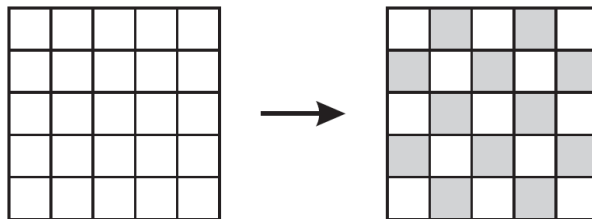
Suma prvih n prirodnih brojeva je $S_n = \frac{n(n+1)}{2}$. Kako prost broj p ne dijeli ni jedan broj manji od n , a dijeli

S_n zaključujemo da je $p = n + 1$. Onda je $n + p = 2n + 1$.

To znači da kada od danog broja oduzmemo 1 pa ga podijelimo s 2 pa mu dodamo 1 trebamo dobiti prost broj.

To je slučaj samo kod broja 217.

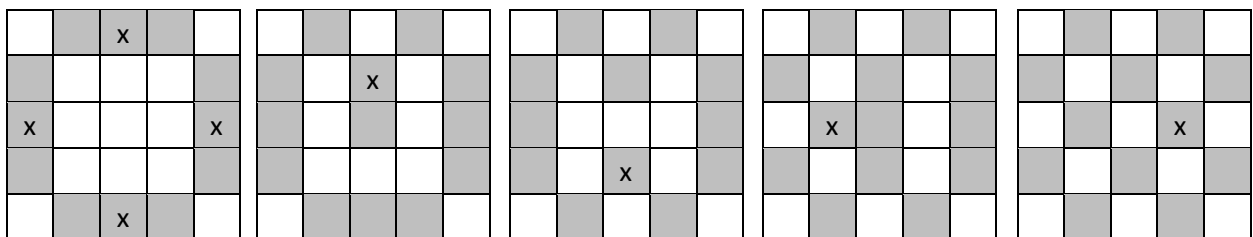
23. Kvadrat (5×5) podijeljen je na 25 polja. Sva polja su na početku bijela. U svakom potezu je dozvoljeno promijeniti boju trima uzastopnim poljima u retku ili stupcu u suprotnu boju (bijela polja postaju crna, a crna bijela). Koliko nam najmanje poteza treba kako bi dobili šahovnicu kao na slici?



- A) manje od 10 B) 10 C) 12 D) više od 12 E) To nije moguće.

Rješenje: A

Možemo to učiniti u 8 poteza.



24. Prirodan broj N ima točno šest različitih djelitelja uključujući 1 i N . Produkt pet od tih djelitelja je 648. Koji od danih brojeva je šesti djelitelj broja N ?

- A) 4 B) 8 C) 9 D) 12 E) 24

Rješenje: C

Rastavimo 648 na proste faktore: $648 = 2 \cdot 2 \cdot 2 \cdot 3 \cdot 3 \cdot 3 \cdot 3$. Sada vidimo da se može zapisati kao

$648 = 1 \cdot 2 \cdot 3 \cdot 6 \cdot 18$. Sada je lako zaključiti da je najveći od njih $N = 18$ i da nedostaje njegov djelitelj 9.

Rješenja zadataka bit će objavljena 15. travnja 2016. godine na internet stranici HMD-a.

Rezultati natjecanja najbolje plasiranih učenika bit će objavljeni 2. svibnja 2016. godine na oglasnoj ploči škole i na internet stranici HMD-a.

Primjedbe i žalbe učenika primaju se isključivo elektronskim putem na e-mail klokan@math.hr do 9. svibnja 2016. u 23:59.

Nagrade najboljim učenicima dodjeljivat će se od 23. svibnja 2016. godine.

Obavijesti se mogu dobiti na Internetu - <http://www.matematika.hr/klokan/2016/>.