

Zahvaljujem Društvu matematičara Srbije (<http://www.dms.org.rs/>) i njegovom predsjedniku dr. Zoranu Kadelburgu na dopuštenju da iz časopisa "Matematički list za učenike osnovne škole" skeniram stranice koje sadrže zadatke i rješenja s republičkih natjecanja (SR Hrvatske) i saveznih natjecanja (SFRJ) i skenove objavim na web stranici <http://public.carnet.hr/mat-natj> .

Antonija Horvatek  
<http://public.carnet.hr/~ahorvate/>

## OBAVEŠTENJE PRETPLATNICIMA

1. Uredništvo poziva nastavnike i profesore matematike kao i ostale čitaoce da šalju svoje priloge za list: članke, odabrane zadatke, zadatke sa prijemnih ispita i matematičkih takmičenja, razne zanimljivosti. Poželjno je da svi rukopisi (osim učenjskih rešenja zadataka) budu pisani pisaćom mašinom, s preredom. Rukopisi se ne vraćaju.

2. *Matematički list* namenjen je *svim učenicima* IV—VIII raz. osnovne škole. List izlazi 6 puta u toku školske godine, i to I. X, 15. XI, 1. I, 15. II, 1. IV i 15. V.

3. *Godišnja pretplata* (za svih 6 brojeva), iznosi 35 dinara. Naručiocima za više od 10 kompleta odobravamo rabat (20%, 15%, 10%), zavisno od roka do kojeg se isplati celokupna pretplata (1. XII, 1. III, 1. VI). Nikakvi drugi odbici ne uvažavaju se.

Narudžbine se šalju samo neposredno na adresu lista, a novac na žiro-račun „Matematičkog lista” broj 60806-678-14627. Pri tome treba obavezno navesti tačnu adresu na koju list treba dostaviti i jasno naznačiti na šta se narudžbina odnosno uplata odnosi.

*Narudžbine primamo i direktno preko telefona redakcije, br. 011-638-263.*

4. Raspoložemo kompletima lista iz školske 1968/69. god. (br. III, 1—5), šk. 1969/70. god. (br. IV, 1—5), šk. 1970/71. god. (br. V, 3 i 4), šk. 1971/72. god. (br. VI, 1—5), šk. 1972/73. god. (br. VII, 1—5), šk. 1973/74. god. (br. VIII, 1—5), šk. 1974/75. god. (br. IX, 1—6), šk. 1975/76. god. (br. X, 1—6) i šk. 1976/77. god. (br. XI, 1—6). Od ovih godišta prodaju se: godišta III, IV, VI i VII po sniženoj ceni od 10 dinara za komplet, godišta V po ceni od 4 dinara i godišta VIII, IX, X i XI po ceni od 15 din. Zbirka rešenih zadataka sa matematičkih takmičenja učenika osnovne škole može se dobiti po ceni od 10 din.

5. Mole se poverenici *Matematičkog lista* da izmire sva zaostala dugovanja.

6. Sve priloge, primedbe i narudžbe slati *isključivo* na adresu:

**Matematički list, p.p. 728, 11001 Beograd**

## S A D R Ź A J

1. S. Vukadinović: Statistika kao metoda proučavanja masovnih pojava ..	161
2. M. Živković: Formiranje i broj nekih podskupova datog skupa .....	165
3. D. Milošević: Jedna zanimljiva osobina nekih brojeva .....	168
4. Ž. Mijalković: Jedan kriterijum deljivosti celih brojeva brojem 7 ....	170
5. M. Krčmar: Univerzalna metoda konstrukcije pravilnih mnogokuta ....	172
6. Iz istorije elementarne matematike .....	174
7. Zadaci za proveravanje stečenog znanja .....	176
8. Zadaci sa republičkog natjecanja učenika osnovnih škola u SR Hrvatskoj ..	184
9. Rešenja konkrusnih zadataka 475—487 iz matematičkog lista XII, 5 ..	186
10. Spisak rešavalaca konkrusnih zadataka iz Matematičkog lista XII-1, 2, 3, 4, 5 ..	190
11. Nagrađeni i pohvaljeni rešavatelji konkrusnih zadataka .....	201
12. Mi smo ih rešili — a vi? .....	205
13. Rezultati konkrusa za nagradni zadatak br. 56 .....	208
14. Rezultati konkrusa za nagradni zadatak .....	3. st. k.

# MATEMATIČKI LIST

ZA UČENIKE OSNOVNE ŠKOLE

XII

6



DAVID HILBERT

BEOGRAD  
1978.

SAVEZ DRUŠTAVA MATEMATIČARA, FIZIČARA I ASTRONOMA  
JUGOSLAVIJE

**MATEMATIČKI LIST**  
**za učenike osnovne škole**

God. XII, broj 6 (1977/78)

Izlazi šest puta godišnje

IZDAJE DRUŠTVO MATEMATIČARA, FIZIČARA I ASTRONOMA  
SR SRBIJE

Beograd, Knez Mihailova 35/IV, p. p. 728.

Urednici:

*Platon Dimić i Miroslav Živković*

Redakcioni odbor:

*Bogumila Kolenko (Ljubljana), dr Željko Pouše (Zagreb),  
Kosta Mijatović (Sarajevo), Danilo Šćepanović (Titograd),  
Duško Kovačev (Skopje), Velimir Sotirović (Novi Sad),  
Vladimir Stojanović (Beograd)*

Glavni i odgovorni urednik: *Miroslav Živković*

Sva prava umnožavanja, preštampanja i prevođenja zadržava  
Društvo matematičara, fizičara i astronoma SR Srbije


Oslobođeno plaćanja poreza na promet na osnovu rešenja Republičkog sekretarijata  
za kulturu SR Srbije br. 413-186-03 od 11.1.1973. godine

Šampa: Beogradski izdavačko-grafički zavod, Beograd, Bul. vojvode Mišića br. 17



# MATEMATIČKA TAKMIČENJA SR HRVATSKA

ZADACI SA REPUBLIČKOG  
NATJECANJA UČENIKA OSNOVNIH  
ŠKOLA, ODRŽANOG 14. I 15.  
SVIBNJA 1977. GODINE



Na Republičkom natjecanju učestvovali su učenici VII i VIII razreda osnovne škole, koji su i ovog puta rješavali zadatke razvrstane u dvije skupine. Prva skupina sadržala je po 10 lakših zadataka, koji su služili za zagrijavanje natjecatelja. Većina učenika bez napora je riješila sve zadatke prve skupine. Pravi problemi pojavili su se tek pri rješavanju zadataka druge skupine. Ovdje ćemo riješiti samo zadatke iz druge skupine.

## VII RAZRED (druga)

1. Duljina svake stranice kvadrata  $ABCD$  povećana je za 20% i dobiven je kvadrat  $A_1B_1C_1D_1$ . Zatim je duljina svake stranice kvadrata  $A_1B_1C_1D_1$  smanjena za 20% i dobiven je kvadrat  $A_2B_2C_2D_2$ . Koliko postotaka ploštine kvadrata  $ABCD$  iznosi ploština kvadrata  $A_2B_2C_2D_2$ ?

2. Ploština jednakokrakog trapeza iznosi  $36 \text{ cm}^2$ . Duljina jedne osnovice jednaka je dvostrukoj duljini druge osnovice, a duljina visine je  $4 \text{ cm}$ .

a) Izračunaj opseg tog trapeza; b) konstruiraj taj trapez.

3. Odredi one elemente skupa  $S = \{(x, y) : x \in \mathbb{N}, y \in \mathbb{N}, x < 15\}$  za koje je vrijednost izraza  $\left(\frac{2}{3}x - y - 3\right)^2 + 2$  najmanja!

4. Zadan je kut  $\angle(a, b)$  i točka  $T \in a$ . Konstruiraj kružnicu duljine polumjera  $2 \text{ cm}$  koja dira krak  $b$  i prolazi zadanom točkom  $T$ ! Koliko ima rješenja?

## VIII RAZRED

1. Točke  $A, B$  i  $C$  pripadaju kružnici  $k$ . Duljine lukova  $\widehat{AB}$ ,  $\widehat{BC}$  i  $\widehat{CA}$  odnose se kao  $7:5:6$ . Izračunaj kutove trokuta  $ABC$ !

2. Dokaži da je polinom  $P(x) = x^2 + x + 1$  faktor polinoma  $R(x) = x^8 + x^7 + x^6 + x^5 + x^4 + x^3 + x^2 + x + 1$ !

3. Ako između znamenaka dvoznamenkastog broja upišemo nulu, tada je dobiven troznamenkasti broj koji je devet puta veći od tog dvoznamenkastog broja. Odredi taj dvoznamenkasti broj!

4. Duljine stranica osnovke kvadra iznose  $3 \text{ (m)}$  i  $4 \text{ (m)}$ , a prostorna dijagonala tog kvadra zatvara s tom osnovkom kut od  $60^\circ$ . Odredi volumen i oplošje kvadra.

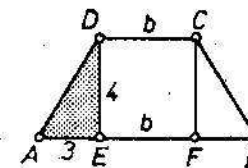
## Rešenje zadataka

### VII RAZRED

1. Ako je  $a$  duljina stranice kvadrata  $ABCD$ , onda duljina stranice kvadrata  $A_1B_1C_1D_1$  iznosi  $1,2a$ , a duljina stranice kvadrata  $A_2B_2C_2D_2$  je  $0,96a$  ( $20\%$  od  $1,2a$  je  $0,24a$ ). Ploština prvog kvadrata je  $a^2$ , a ploština kvadrata  $A_2B_2C_2D_2$  je  $0,96^2 a^2$ , tj.  $0,9216 a^2$ , što predstavlja  $92,16\%$  ploštine kvadrata  $ABCD$ .

2. a) Iz ploštine  $P = \frac{h}{2}(a+b)$ , smjenjujući  $a = 2b$ ,  $P = 36$  i  $h = 4$ , dobivamo jednadžbu:  $36 = 6b$ , odakle je  $b = 6$ . Dakle,  $a = 12 \text{ cm}$ . U pravokutnom trokutu  $AED$  (sl. 1) primijenimo Pitagorin poučak i dobivamo  $c = \sqrt{9 + 16} = 5 \text{ cm}$ . Opseg trapeza je  $O = a + b + 2c = 28 \text{ cm}$ .

b) Da bismo konstruirali trapez  $ABCD$ , treba najprije konstruirati pravokutnik  $CDEF$ , a zatim pravokutne trokute  $AED$  i  $BCF$ .



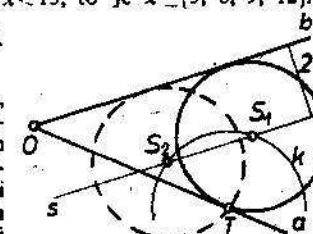
Sl. 1

3. Izraz  $\left(\frac{2}{3}x - y - 3\right)^2 + 2$  ima najmanju vrijednost ako je  $\frac{2}{3}x - y - 3 = 0$ ,

odakle dobivamo  $y = \frac{2}{3}x - 3$ . Kako je  $y \in \mathbb{N}$  i  $x < 15$ , to je  $x \in \{3, 6, 9, 12\}$ .

Odgovarajuće vrijednosti za  $y$  su:  $-1, 1, 3, 5$ . Dakle,  $S = \{(3, -1), (6, 1), (9, 3), (12, 5)\}$ .

4. Centar tražene kružnice je presjek pravca  $s$ , paralelnog sa  $b$  i udaljenog za  $2 \text{ cm}$  od kraka  $b$  danog kuta i kružnice  $k$  sa centrom  $T$  i polumjerom duljine  $2 \text{ cm}$ . Zavisno od toga da li kružnica  $k$  sječe u dvema točkama (sl. 2) ili u jednoj točki ili dodiruje pravac  $s$  ili sa njim nema zajedničku točku zadatak može imati dva rješenja, jedno rješenje ili tražena kružnica ne postoji.

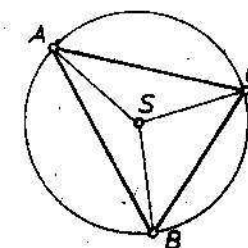


Sl. 2

### VIII RAZRED

1. Prema danom uvjetu, centralni kutovi  $\angle ASB$ ,  $\angle BSC$  i  $\angle CSA$ , stoje u omjeru  $7:5:6$ . Kako je njihov zbroj  $360^\circ$ , sledi da su to redom kutovi  $140^\circ$ ,  $100^\circ$  i  $120^\circ$ . Kutovi trokuta  $ABC$  su polovine odgovarajućih centralnih kutova, tj.  $\alpha = 50^\circ$ ,  $\beta = 60^\circ$ ,  $\gamma = 70^\circ$ .

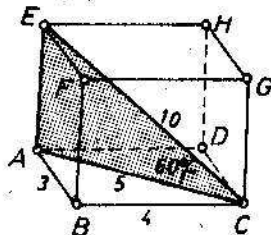
2. Zadani polinom može se transformirati na sljedeći način:  $(x^8 + x^7 + x^6) + (x^5 + x^4 + x^3) + (x^2 + x + 1) = x^6(x^2 + x + 1) + x^3(x^2 + x + 1) + (x^2 + x + 1) = (x^6 + x^3 + 1)(x^2 + x + 1)$ .



Sl. 3.

3. Ako su  $x$  i  $y$  znamenke zadanog broja, možemo sastaviti jednažbu:  $100x + y = 9(10x + y)$ , odakle je  $10x = 8y$ , odnosno  $x = \frac{4}{5}y$ . Prema tome,  $x = 4$  i  $y = 5$ . Traženi dvoznamenkasti broj je 45.

4. Hipotenuza pravokutnog trokuta  $ABC$  ima duljinu 5 (m), jer je  $3^2 + 4^2 = 5^2$ . Pravokutni trokut  $ACE$  (sl. 4) je polovina istostranog trokuta, pa je duljina prostorne dijagonale 10 (m), ( $EC = 2AC$ ), a visina  $AE$  ima duljinu  $5\sqrt{3}$ . Volumen kvadra je  $V = 3 \cdot 4 \cdot 5\sqrt{3} = 60\sqrt{3}$ , a oplošje je  $P = 2(3 \cdot 4 + 3 \cdot 5\sqrt{3} + 4 \cdot 5\sqrt{3})$ , tj.  $P = 24 + 70\sqrt{3}$ .



Sl. 4

### ЗАДАЦИ

#### РЕШЕЊА КОНКУРСНИХ ЗАДАТАКА 475-487 ИЗ МАТЕМАТИЧКОГ ЛИСТА XII, 5



A) За ученике IV и V разреда.

475. Три лица поделе 3774 динара на овај начин: прво лице добије 111 динара мање од другог, а треће добије колико прво и друго заједно. По колико динара добије свако?

Ако се од суме другог лица одбије 111 динара, оно ће добити колико и прво лице. Пошто треће лице добије колико прво и друго заједно, то, ако од његове суме новца одбијемо 111 динара, остатак ће представљати двоструку суму новца првог лица. Значи, у 3774 динара садржи се 4 пута сума новца првог лица и још два пута по 111 динара. То се може представити и графички:

I лице:	_____
II лице:	_____ 111
III лице:	_____ 111
	Сл. 1

Израз  $(3774 - 2 \cdot 111) : 4$  даје новац првог лица, а то је 888 динара. Значи, друго лице добије 999 динара, а треће 1887 динара.

Драган Перовић, уч. IV. р. ОШ „Х. Приштина“, Приштина

476. За коју вредност променљиве  $a$  једначине (једнаже):  $1 = 2x - a - 2$  и  $2y - 2a = 4$  имају једнака решења, иако да је  $x = y$ ?

Пошто је  $x = y$ , то је и  $2x = 2y$ . Једначину:  $1 = 2x - a - 2$  можемо написати као:  $1 = 2x - (a + 2)$  а одатле је:  $2x = 1 + (a + 2)$ . Из друге једначине имамо да је  $2y = 4 + 2a$ . Пошто је  $2x = 2y$ , на основу својства релације једнакости произилази да је:  $4 + 2a = 1 + a + 2$ . Ако и од леве и од десне стране одузмемо по једно  $a$ , добићемо једначину:  $4 + a = 1 + 2$ , односно:  $4 + a = 3$ . Из ове једначине добијамо да је  $a = -1$ .

Мирјана Радовановић, уч. V. р. ОШ „Ж. Томић“, Јарменовић